

FOLHA DE REGISTO - GRUPO 1

Membros do grupo: _____

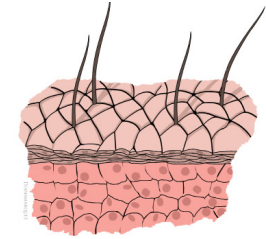
1. Depois de olhar para estas células vejo que...	Verdadeiro	Falso
... elas têm núcleo.		
... cada uma tem 2 ou mais núcleos.		
... são redondas.		
... são quadradas.		
... parecem-se com estrelas.		
... têm forma cilíndrica.		
... uma parte delas é parecida com as franjas de um tapete.		
... uma parte delas é parecida com as raízes de uma árvore.		

Pista: "Estas células transportam oxigénio."	Escolhe a opção correta
2. Seguindo a pista, a função destas células é ajudar-nos a...	
... pensar.	
... proteger do sol.	
... manter o esqueleto forte.	
... levar o oxigénio a todo o nosso corpo.	
... digerir a comida.	
... bombear o sangue.	
... correr.	

O órgão formado por estas células é: _____ Estas células chamam-se: _____

FOLHA DE REGISTO - GRUPO 2

Membros do grupo: _____

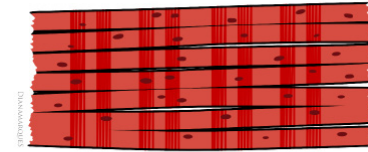


1. Depois de olhar para estas células vejo que...	Verdadeiro	Falso
... elas têm núcleo.		
... cada uma tem 2 ou mais núcleos.		
... são redondas.		
... são quadradas.		
... parecem-se com estrelas.		
... têm forma cilíndrica.		
... uma parte delas é parecida com as franjas de um tapete.		
... uma parte delas é parecida com as raízes de uma árvore.		

Pista: “Estas células estão todas muito juntas e empilhadas formando uma barreira.”	Escolhe a opção correta
2. Seguindo a pista, a função destas células é ajudar-nos a...	
... pensar.	
... proteger do sol.	
... manter o esqueleto forte.	
... levar o oxigénio a todo o nosso corpo.	
... digerir a comida.	
... bombear o sangue.	
... correr.	

O órgão formado por estas células é: _____ Estas células chamam-se: _____

FOLHA DE REGISTO - GRUPO 3



Membros do grupo: _____

1. Depois de olhar para estas células vejo que...	Verdadeiro	Falso
... elas têm núcleo.		
... cada uma tem 2 ou mais núcleos.		
... são redondas.		
... são quadradas.		
... parecem-se com estrelas.		
... têm forma cilíndrica.		
... uma parte delas é parecida com as franjas de um tapete.		
... uma parte delas é parecida com as raízes de uma árvore.		

Pista: “Estas células juntam-se formando fibras que esticam e encolhem para contraírem e relaxarem.”	Escolhe a opção correta
2. Seguindo a pista, a função destas células é ajudar-nos a...	
... pensar.	
... proteger do sol.	
... manter o esqueleto forte.	
... levar o oxigénio a todo o nosso corpo.	
... digerir a comida.	
... bombear o sangue.	
... correr.	

O órgão formado por estas células é: _____ Estas células chamam-se: _____



FOLHA DE REGISTO - GRUPO 4

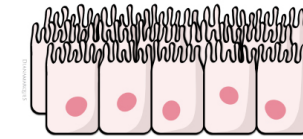
Membros do grupo: _____

1. Depois de olhar para estas células vejo que...	Verdadeiro	Falso
... elas têm núcleo.		
... cada uma tem 2 ou mais núcleos.		
... são redondas.		
... são quadradas.		
... parecem-se com estrelas.		
... têm forma cilíndrica.		
... uma parte delas é parecida com as franjas de um tapete.		
... uma parte delas é parecida com as raízes de uma árvore.		

Pista: "Estas células provocam batimentos muito fortes."	Escolhe a opção correta
2. Seguindo a pista, a função destas células é ajudar-nos a...	
... pensar.	
... proteger do sol.	
... manter o esqueleto forte.	
... levar o oxigénio a todo o nosso corpo.	
... digerir a comida.	
... bombear o sangue.	
... correr.	

O órgão formado por estas células é: _____ Estas células chamam-se: _____

FOLHA DE REGISTO - GRUPO 5




Membros do grupo: _____

1. Depois de olhar para estas células vejo que...	Verdadeiro	Falso
... elas têm núcleo.		
... cada uma tem 2 ou mais núcleos.		
... são redondas.		
... são quadradas.		
... parecem-se com estrelas.		
... têm forma cilíndrica.		
... uma parte delas é parecida com as franjas de um tapete.		
... uma parte delas é parecida com as raízes de uma árvore.		

Pista: “Estas células absorvem os nutrientes dos alimentos que ingerimos.”	Escolhe a opção correta
2. Seguindo a pista, a função destas células é ajudar-nos a...	
... pensar.	
... proteger do sol.	
... manter o esqueleto forte.	
... levar o oxigénio a todo o nosso corpo.	
... digerir a comida.	
... bombear o sangue.	
... correr.	

O órgão formado por estas células é: _____ Estas células chamam-se: _____



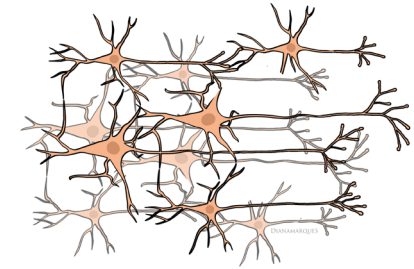
FOLHA DE REGISTO - GRUPO 6

Membros do grupo: _____

1. Depois de olhar para estas células vejo que...	Verdadeiro	Falso
... elas têm núcleo.		
... cada uma tem 2 ou mais núcleos.		
... são redondas.		
... são quadradas.		
... parecem-se com estrelas.		
... têm forma cilíndrica.		
... uma parte delas é parecida com as franjas de um tapete.		
... uma parte delas é parecida com as raízes de uma árvore.		

Pista: “Estas células têm uma massa à volta delas onde guardam o cálcio que existe, por exemplo, no leite.”	Escolhe a opção correta
2. Seguindo a pista, a função destas células é ajudar-nos a...	
... pensar.	
... proteger do sol.	
... manter o esqueleto forte.	
... levar o oxigénio a todo o nosso corpo.	
... digerir a comida.	
... bombear o sangue.	
... correr.	

O órgão formado por estas células é: _____ Estas células chamam-se: _____



FOLHA DE REGISTO - GRUPO 7

Membros do grupo: _____

1. Depois de olhar para estas células vejo que...	Verdadeiro	Falso
... elas têm núcleo.		
... cada uma tem 2 ou mais núcleos.		
... são redondas.		
... são quadradas.		
... parecem-se com estrelas.		
... têm forma cilíndrica.		
... uma parte delas é parecida com as franjas de um tapete.		
... uma parte delas é parecida com as raízes de uma árvore.		

Pista: “Tal como a eletricidade passa pelos cabos para gerar luz, por estas células passam impulsos nervosos.”	Escolhe a opção correta
2. Seguindo a pista, a função destas células é ajudar-nos a...	
... pensar.	
... proteger do sol.	
... manter o esqueleto forte.	
... levar o oxigénio a todo o nosso corpo.	
... digerir a comida.	
... bombear o sangue.	
... correr.	

O órgão formado por estas células é: _____ Estas células chamam-se: _____